



21 Ιουλίου 2014

## Σχήματα ίσα... κι όμως άνισα

/ [Πεμπτούσια](#)

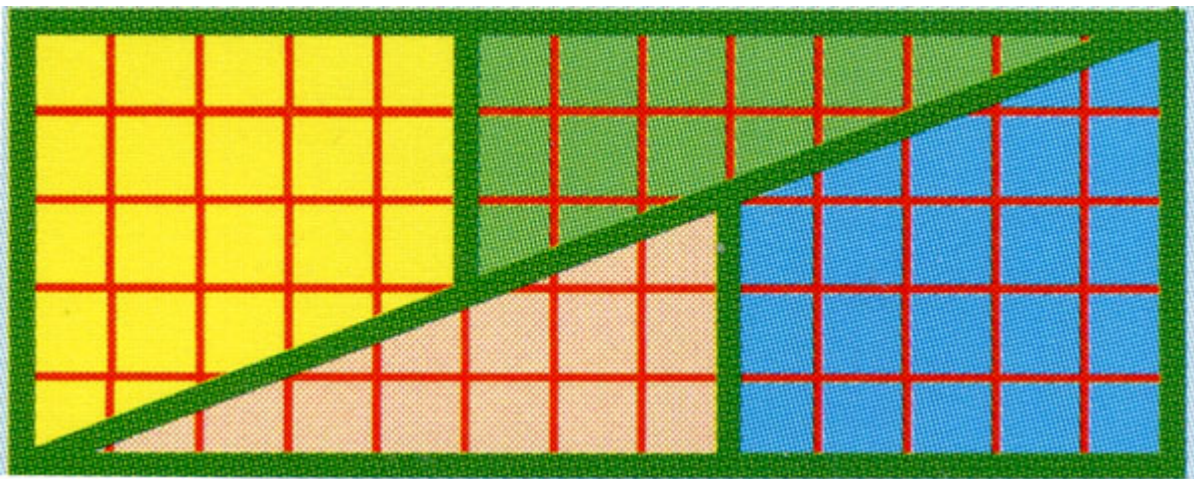


υ υπολογιστή

Κόψε το

σχήμα κατά μήκος των παχιών πράσινων γραμμών.

Ανασυναρμολόγησέ το σε ορθογώνιο παραλληλόγραμμο, όπως στο σχήμα που φαίνεται παρακάτω.



Πρόσεξε

τώρα ότι το ορθογώνιο παραλληλόγραμμο που έφτιαξες έχει εμβαδό  $5 \times 13 = 65$ .  
Δηλαδή το 64 είναι ίσο με το 65!

